

臺灣警察專科學校 113 學年度專科警員班第 43 期正期學生組新生入學考試歷史與地理科試題

查、單選題：(一) 30 題，題號自第 1 題至第 30 題，每題 2 分，計 60 分。

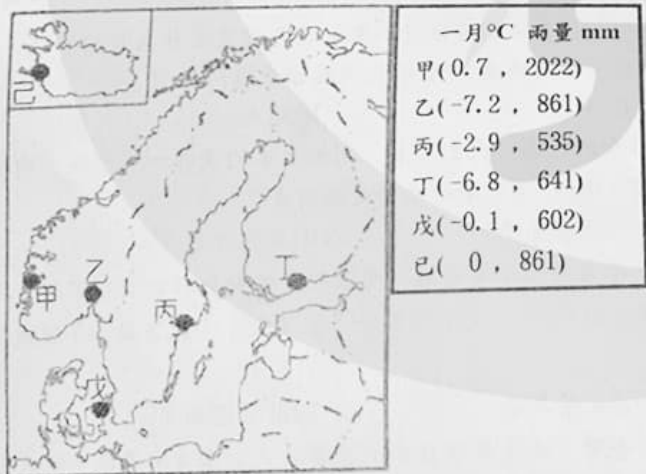
(二) 未作答者不給分，答錯者不倒扣。

(三) 請將正確答案以 2B 鉛筆劃記於答案卡內。

准考證號：_____

1. 某個國家曾在一段時期主導澳門—長崎的貿易航線，因此該國貿易船隻的獲利是其他國家貿易船隻的六倍之多。請問：這個國家是指以下何者？
(A) 十六世紀末的西班牙 (B) 十七世紀初的葡萄牙 (C) 十七世紀末的荷蘭 (D) 十八世紀初的英國。
2. 十七世紀後期起，隨著漢人移民帶來傳統醫療，臺灣被納入傳統中醫的領域之內。到了二十世紀前期，影響臺灣變成傳統中醫的邊陲地帶並逐漸沒落的關鍵是以下何者？
(A) 總督府推公共衛生制 (B) 甲午戰爭後割讓臺灣 (C) 一次大戰後流感襲臺 (D) 總督府限制漢醫開業。
3. 中國史上的一項運輸設施，其重要作用是將江南糧食輸送到京師，但在沿線也廣設驛站供政府遞送公文。當時，有些來華的歐洲人選擇利用此項設施旅遊，好欣賞沿途明媚的風光。請問：這項運輸設施是指何者？
(A) 京杭大運河 (B) 吳淞鐵路 (C) 永濟渠 (D) 絲路。
4. 日本政府在某一事件後將琉球王國改成琉球藩，結束了琉球原是中、日兩國屬地的狀態，而把琉球置於日本單獨領土主權之下。後來，日本又改稱為沖繩縣。請問：此一歷史事件是指何者？
(A) 黑船事件 (B) 羅妹號事件 (C) 牡丹社事件 (D) 西來庵事件。
5. 日治臺灣後期，總督府在政策主導下推行「奉仕(服務)」的作業，要求臺灣高校的女學生從事為士兵送行、搗餅、洗衣、打掃等活動。請問：這項政策最可能是以下何者？
(A) 特殊統治主義 (B) 內地延長主義 (C) 生物學原則 (D) 皇民化運動。
6. 中國歷代官方對媽祖有不同的冊封稱號，宋代冊封媽祖為「靈惠夫人」；元代冊封為「天妃」；清代冊封為「天后」。而在臺灣的民間，則經常使用「媽祖婆」一詞稱呼。請問：這些稱號、稱呼顯示出怎樣的意義？
(A) 媽祖呈現妻子和母親慈愛的女神形象 (B) 媽祖具有皇室血緣而受朝廷冊封爵位
(C) 女性的社會地位超越男性的社會地位 (D) 女性成為參與政治且掌握權勢的要臣。
7. 學者研究某一國家的移民族群時，發現其移入的主要族群包括：最初移入的英格蘭人，以及後來移入的愛爾蘭人、義大利人、德國人等。請問：這個國家最可能是以下何者？
(A) 墨西哥 (B) 海地 (C) 美國 (D) 巴西。
8. 此一時期，來自中國東北的游牧民族與從東南崛起的海商家族，兩者雖位處中國的邊緣，但都活躍在東亞的政治舞臺。最後，東南的海商家族被游牧民族消滅，臺灣也納入游牧民族的治理。請問：這是指哪個時期？
(A) 十五世紀 (B) 十六世紀 (C) 十七世紀 (D) 十八世紀。
9. 有個東亞國家曾經施行科舉制度來選用國家所需的文官，但科舉制度施行結果卻成為權貴晉升高官的管道。十九世紀末，該國在鄰國勢力的威脅下推行改革，使科舉制度走向結束。請問：這個國家是指何者？
(A) 日本 (B) 朝鮮 (C) 中國 (D) 越南。
10. 中國歷史上某個時期的學術發展主流，不僅禁錮了婦女的行為，也影響霸王別姬文本的演繹—虞姬從「殉情」的角色轉變成為丈夫守貞、對君王盡忠的「殉節」特質。請問：這項學術思想是指何者？
(A) 兩漢經學 (B) 魏晉玄學 (C) 隋唐佛學 (D) 宋明理學。
11. 二十世紀作家吳爾芙在其書中，描述一位英格蘭才華洋溢的女子萊蒂絲，受限於女性身分只能留在家裡，沒機會到文法學校學習拉丁文，更不可能閱讀魏吉爾的作品。請問：從「文法學校」、「拉丁文」、「魏吉爾」等關鍵字，顯示當時英格蘭可能受到何者的影響？
(A) 文藝復興 (B) 宗教改革 (C) 光榮革命 (D) 啟蒙運動。
12. 有位當代作家在自序提到，他出生於接受日本教育的臺灣，半生耳濡目染的盡是日式的漢文。後來，新政府推行的政策，讓習慣以日文書寫的他手忙腳亂、應付無方。請問：上文的政策應是指何者？
(A) 1930、40 年代的皇民化政策 (B) 1940、50 年代的國語政策
(C) 1950、60 年代的美援政策 (D) 1980、90 年代的本土語言政策
13. 1945 年越南民主共和國成立後，正式宣布羅馬字是其唯一的官方文字。此舉讓某國政府不斷強調，越南以拉丁字母為主的書寫系統是「越南人文明化的象徵」，更是該國「帶來的禮物」。請問：某國是指哪個國家？


- (A)法國 (B)英國 (C)美國 (D)德國
14. 某國官員出訪外國時，發表如下的看法：我國官民最熱切的願望，是努力達到像其他先進國家一樣的文明高點。為了達成這個目標，我們推行西方國家的軍事、科學與教育等制度，而各種新知也隨著對外貿易輸入我國。儘管我國在物質文明進步神速，國人在智識方面的成長則是更為顯著。請問：他應是以下何者的官員？
 (A)鎖國時期的幕府 (B)荷蘭殖民的印尼 (C)明治維新的日本 (D)清初盛世的中國
15. 以下是美國官方對好萊塢影業呼籲的部分內容：你可以趕走電視、廣播和好萊塢的共產黨員……請記得：如果你贊助共產黨製片、編劇、演員和電影公司，你就是在幫助共產黨滋長，每次你允許共產主義藉著電視進到你的客廳，你就是幫助莫斯科及國際主義者摧毀美國的那個人。請問：這份呼籲反映怎樣的時代特色？
 (A)一次大戰時，美國支持俄國參戰 (B)戰間時期，美國保持中立的態度
 (C)二次大戰時，美國表態即將參戰 (D)冷戰期間，美蘇兩國敵對的情勢
16. 同屬溫帶季風氣候的日本、南韓與中國華北地區氣候特徵為：(甲)年溫差(乙)降水量多寡(丙)季風方向(丁)夏季氣溫，請問此三個地區有那兩項特徵較相似？
 (A)甲乙 (B)甲丙 (C)乙丙 (D)丙丁
17. 有關比例尺的敘述下列有那些是正確的選項？
 (甲)大比例尺地形圖中兩相鄰等高線高度差通常較小
 (乙)要了解地表上小型建物或公共設施(像燈柱、地下排水溝蓋)之位置，需使用小比例尺地圖
 (丙)颱風造成某鄉鎮學校損壞程度之調查，應使用小比例尺地圖
 (丁)同圖幅大小的小比例尺地圖所能涵蓋範圍較大。
 (A)甲乙 (B)乙丙 (C)甲丁 (D)乙丁
18. 臺灣平均每人所能分配的水資源量並不多，約只有世界平均的1/7。請問那些「並非」是造成臺灣缺水的原因？
 (甲)人口密度高(乙)降雨時空分布不均(丙)河流坡降小(丁)坡陡流急，地勢起伏大(戊)年降水量少
 (A)甲乙 (B)甲丁 (C)乙戊 (D)丙戊
19. 伊斯蘭教內教派很多，信仰範圍遍及歐、亞、非三洲，主要有「遜尼派」和「什葉派」兩大教派，請問下列那一地區是「什葉派」的主要分布區？
 (A)阿拉伯高原 (B)安那托利亞高原 (C)阿富汗高原 (D)伊朗高原
20. 交通部推出的「TPASS 行政院通勤月票」，於2023年7月正式上線，第一階段涵蓋北中南三大生活圈月票，包括：台北基桃(在四縣市範圍內，30日內不限次數搭乘多種通勤運具；包含捷運、輕軌、市區公車、台鐵、公路客運、各地公共自行車)……這種透過優惠的公共運輸策略，都會區的範圍已由雙北延伸到基隆市與桃園市等地。請問此現象最符合區域交互作用中的何種形式？
 (A)不平等交換 (B)都市土地利用分區 (C)反吸 (D)擴散



※上圖是北歐主要都市的一月溫度與年雨量的氣候資料，請問以下2題：

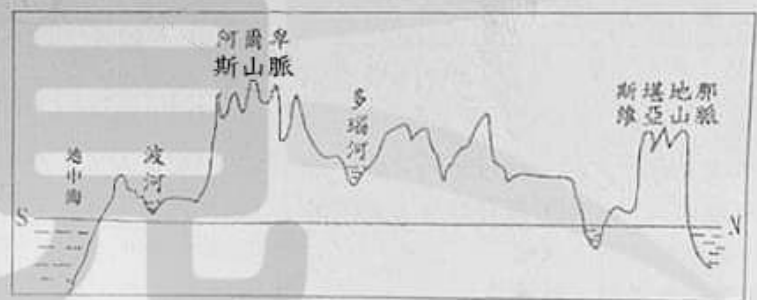
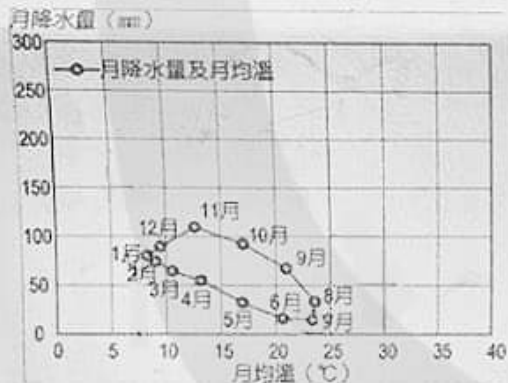
21. 造成甲與己的一月均溫較其他城市溫暖的主要原因是：
 (A)緯度 (B)地勢 (C)西風 (D)洋流
22. 甲與乙均靠海，但年降水量卻相差懸殊，其主要原因是：(甲)地形向背(乙)洋流影響(丙)緯度差異(丁)盛行風向
 (A)甲丙 (B)甲丁 (C)乙丁 (D)丙丁

23. 伊比利半島西北部地區工業發展較半島上其他地區為佳，試問當地區氣候最可能為何種類型？
 (A) 夏雨型暖溫帶氣候 (B) 溫帶海洋性氣候 (C) 溫帶大陸性氣候 (D) 熱帶莽原氣候
24. 一位十七世紀荷蘭船醫在航海日記上如此描述：「麻六甲，位居麻六甲海峽最窄的戰略位置，能夠注視與控制海上交通。巨大的蘇門答臘島阻隔著風，麻六甲為受到風向擺布的船隻提供一個安全的港。來自西方的我們受甲風之助，穿越印度洋，船抵麻六甲，並在此處停留數個月，直到風向改變，我們才順利做航返家。」文中所提及的甲風是指：
 (A) 西南季風 (B) 東北季風 (C) 東南信風 (D) 盛行西風
25. 歐洲某區域因鄰近西亞，成為歐洲文明的起源，此區域房屋建築也常見藍色的房頂和白色的屋牆，請問有關於此區域發展描述：(甲)地形崎嶇，夏季少雨，糧食產量不足(乙)以夏雨為主的大陸性氣候，易受亞洲外族侵擾(丙)居民利用山坡地種植果樹，製成葡萄酒、橄欖油等產品(丁)地勢平坦，但土壤黏性強，不利農業發展。以上正確的選項有哪些？
 (A) 甲乙 (B) 甲丙 (C) 乙丙 (D) 乙丁
26. 萊門反政府武裝組織自 2023 年 10 月 18 日以飛彈、無人機攻擊以色列，也在甲海峽襲擊多國商船。由於甲海峽連接著紅海和亞丁灣，許多來往歐洲與亞洲的商船被迫避開這個水域，轉而繞過南非好望角航行，造成歐亞航線的運費翻倍上漲，請問甲海峽應為何？
 (A) 直布羅陀海峽 (B) 曼達布海峽 (C) 荷莫茲海峽 (D) 博斯普魯斯海峽
27. 中南半島上的柬埔寨以著名的吳哥窟做為國家的代表性標誌，如右圖所示，在國旗上亦使用了吳哥窟的影像。請問這座名列世界文化遺產的全球最大廟宇，主要受到了哪一種宗教文化的影響？
 (A) 印度教 (B) 天主教 (C) 大乘佛教 (D) 伊斯蘭教



28. 左下圖為歐洲某都市的氣候資料表，請問該都市的氣候是屬哪一類型氣候？

- (A) 溫帶地中海型氣候 (B) 夏雨型暖溫帶氣候 (C) 溫帶海洋性氣候 (D) 熱帶草原氣候



29. 右上圖為歐洲某地地形剖面圖，請問：此地形剖面圖大致是沿哪一條經線所繪製？
 (A) 0°經線 (B) 50°N 緯線 (C) 10°E 經線 (D) 30°E 經線
30. 巴西高原為夏雨冬乾的莽原氣候區，請問該地夏、冬兩季依序分別受到哪兩個風帶的影響？
 (A) 信風帶、副熱帶高壓帶 (B) 信風帶、西風帶 (C) 副熱帶高壓帶、赤道無風帶 (D) 間熱帶輻合區、副熱帶高壓帶

貳、多重選擇題：(一) 共 10 題，題號自第 31 題至第 40 題，每題 4 分，計 40 分。

(二) 每題 5 個選項各自獨立，其中至少有 1 個選項是正確的，每題皆不倒扣，5 個選項全部答對得該題全部分數，只錯 1 個選項可得一半分數，錯 2 個或 2 個以上選項不給分。

(三) 請將正確答案以 2B 鉛筆劃記於答案卡內。

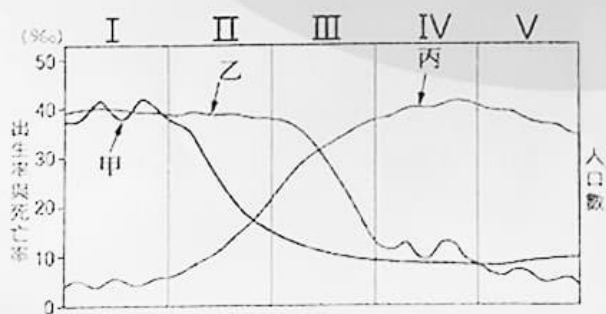
31. 近年來，我國政府邀請學者編纂系列叢書並辦理書籍發表會，其部分書名如下：

《大森坎(今桃園大溪)事件(1900~1910)》、《七腳川事件(1908~1914)》、《太魯閣事件(1914)》。請問：根據三部書的內容，反映出以下哪些共同的意義？

- (A)都發生在阿美族居住地區 (B)都是日治臺灣時期的事件 (C)都因理蕃策略損及原住民利益
(D)都與統治者掠奪樟腦資源有關 (E)都與徵調原住民青年出兵東南亞有關。
32. 東亞發展的歷程中，造成人群移動的因素有氣候的變化、大規模動亂以及政府的政策等。請問：以下哪些情況是因政府為解決人口壓力或鞏固統治而主導人民的遷徙？
(A)明治維新初，日本人移居北海道 (B)清領臺灣時，英沙前往宜蘭墾殖 (C)清雍正時，漢人到雲貴地區開墾
(D)日治臺灣時，原住民遷至山腳下 (E)清晚期，雲南回民遷至中南半島。
33. 日本明治維新後，由天皇所掌握的神社成為舉行國家祭典的場所。隨著日本積極向外擴張，日本人便在殖民地建立神社，以擔負傳播天皇神權思想的責任。請問：以下哪些地區可能出現此項作用的神社？
(A)1860年代的菲律賓 (B)1880年代的印度 (C)1920年代的朝鮮
(D)1930年代的臺灣 (E)1940年代的滿洲國。
34. 十六~二十世紀初期，有部分人群迫於經濟或遭欺騙而長途跋涉到其他地區工作，導致這些人遭受農場主人的剝削與壓榨。請問：以下哪些人群即遭受此種命運？
(A)南美甘蔗園的黑人 (B)北美棉花田的黑人 (C)印度棉花田的阿利安人
(D)東南亞橡膠園的華人 (E)夏威夷甘蔗園的朝鮮人。
35. 中國史上，從秦始皇設立皇帝制度以來，皇帝想擴張權力成為歷史發展的常態。其中，明清兩朝的皇帝曾利用哪些作為來強化自身的權威，使得皇權達於中國史上的巔峰？
(A)設立三省六部 (B)設置密摺制度 (C)廢除宰相制度 (D)開始編戶齊民 (E)設置軍機處。
36. 南亞水、旱及風災頻傳，多與天氣系統有關。水、旱災主要源於西南季風進退的時間太早或太晚，及其持續時間的長短。請問孟加拉水患成因與下列那些因素較相關？
(A)熱帶氣旋 (B)溫帶氣旋 (C)西南季風 (D)地勢低平 (E)東北季風。
37. 下表為一均質平原中四個不同性質商店的商品圈和商閱範圍，請問這五家店中有哪些商店可能會面臨倒閉的命運？

項目 \ 商店	A	B	C	D	E
商品圈 (平方公里)	25	40	28	35	25
商閱 (平方公里)	20	45	20	40	30

38. 十六至十九世紀間，橫跨大西洋歐、非、美三洲的龐大貿易系統稱為三角貿易，對歐、非、美三洲的經濟社會發展影響鉅大，下列有關各類貿易商品與航段的配對，正確的是？
(A)非洲至美洲：奴隸 (B)歐洲至非洲：菸酒、軍火 (C)美洲至歐洲：金、銀礦產
(D)美洲至歐洲：紡織品 (E)歐洲至非洲：棉花、蔗糖。
39. 續上題，在當時的帆船時代，航運仰賴洋流與風向，若從非洲啟航到美洲，再到歐洲，最後回到非洲，請問需藉助下列哪些洋流系統？
(A)本吉拉洋流 (B)北赤道洋流 (C)加那利洋流 (D)北大西洋暖流 (E)墨西哥灣流。
40. 下圖為人口轉型模式圖，I~V代表階段，甲~丙代表人口要素，請問決定II、III三階段人口成長的主要因素，正確的是？



- (A) II - 甲 (B) II - 乙 (C) II - 丙 (D) III - 甲、 (E) III - 乙。