

代號：40110-40410
60110-60510
80110-80510
頁次：4-1

111年公務人員特種考試警察人員、一般警察人員、國家安全局國家安全情報人員考試及111年特種考試交通事業鐵路人員考試試題

考試別：一般警察人員考試、警察人員考試、鐵路人員考試

等別：四等考試、員級考試

類科組別：各類別、各類科

科目：國文（作文、公文與測驗）

考試時間：2小時

座號：_____

※注意：禁止使用電子計算器。

甲、作文與公文部分：

(一)請以藍、黑色鋼筆或原子筆在申論試卷上由左至右橫式作答，於本試題上作答者，不予計分。

(二)不得於試卷上書寫姓名或座號。

一、作文：（60分）

人們常希望擁有的愈多愈好，因此有時會想同時完成多項工作。然而，就像衣櫃堆滿了未來可能會穿而不捨丟棄的衣物時，寶貴的空間被塞得凌亂不堪。當我們認為事事都重要時，也可能會感覺雖然忙碌，但效率不彰。那麼，該如何排定優先順序，有紀律地追求少，而聚焦在真正重要的事物上？請以「少，但是更好」為題，結合個人經驗或見聞，闡述如何取捨以成就化繁為簡的人生。

二、公文：（20分）

請依據下列訊息，以內政部名義發函勞動部：

(一)內政部「風災災害防救業務計畫」修正案，已於111年5月4日中央災害防救會報第65次會議核定。

(二)內政部檢送勞動部上述計畫與修正內容對照表，並請其轉知所屬。

(三)相關內容可至內政部消防署全球資訊網（<https://www.nfa.gov.tw>）「施政計畫及研究報告」下載。

乙、測驗部分：（20分）

代號：1401

(一)本測驗試題為單一選擇題，請選出一個正確或最適當的答案，複選作答者，該題不予計分。

(二)共10題，每題2分，須用2B鉛筆在試卡上依題號清楚劃記，於本試題或申論試卷上作答者，不予計分。

1 下列選項中的題辭，使用錯誤的是：

- (A)中學老師退休，致送匾額：典型足式
- (B)好友新店開張，致送匾額：陶朱媲美
- (C)里長長子結婚，贈送紅包：秦晉之好
- (D)鄰居伯母過世，致贈奠儀：北堂春去

- 2 「芥末以深綠色較大者為佳。雖說芥末因種類不同而有所差異，但基本上大者較為辛辣。磨芥末的磨泥器使用鯊魚皮製品較能磨出細緻綿密的口感。若使用金屬製品，則磨出的芥末較為粗糙。若採購帶葉子的芥末，則不要浪費莖與葉的部分，可使用醬油將其做成醬菜，當作小菜上桌。芥末的莖與葉帶有清爽的香味，辣度也有別於根部而不致嗆鼻。」

根據上文，下列敘述何者正確？

- (A)芥末的葉不嗆鼻，可以做成醬菜
(B)芥末以深綠色為佳，越小越辛辣
(C)帶葉子的芥末磨起來帶有清爽的香味
(D)若想磨出細緻的芥末粉，宜用金屬磨泥器
- 3 「『幸福』也仍是人為的造詞，生命的原本，本無所謂幸福不幸福這個觀念，有的只是願望是否滿足。滿足就安適，不滿足就不安適。問題倒是願望的純與雜，造作與不造作。……幸福，就是什麼東西都得少一點；而大家所追求的卻是什麼都盡量得多。」

根據上文，下列選項何者最接近作者的意旨？

- (A)人無遠慮，必有近憂
(B)素樸寡欲，知足常樂
(C)自然隨意，福氣自來
(D)貪圖幸福，就是造作
- 4 「有位太太請了個油漆匠到家裡粉刷牆壁。油漆匠一走進門，看到她的丈夫雙目失明，頓時露出憐憫的眼光。可是男主人一向開朗樂觀，所以油漆匠在那裡工作了幾天，他們談得很投機；油漆匠也從未提起男主人的缺憾。工作完畢，油漆匠取出帳單，那位太太發現比談妥的價錢打了一個很大的折扣。她問油漆匠：『怎麼少算這麼多呢？』他回答說：『我跟妳先生在一起覺得很快樂，他對人生的態度，使我覺得自己的境況還不算最壞。所以減去的那一部分，就算我對他表示一點謝意，因為他使我不會把工作看得太苦。』油漆匠對她丈夫的推崇，使她淌下眼淚，因為這位慷慨的油漆匠，只有一隻手！」

上文所述，其旨趣與下列何者最為接近？

- (A)把握自己，活在當下
(B)心存感激，才是真正的幸福
(C)改變你的想法，就會改變你的世界
(D)不與別人盲目攀比，自己就會悠然自得

5 「想像一下一群人要決定去那家餐廳吃飯，我們可能會先收集大家的意見，形成『共識』，這個想法是：最大的快樂平均值來自最多人喜歡的選擇。團體智慧在找出最多人偏好的選項時行得通。」根據上文，最適合共識決定的選項是：

- (A) 公共運輸的票價 (B) 處方名稱與劑量
(C) 新商品的接受度 (D) 食安的抽驗品項

6 「秋訊，就像偶爾碰在臉上的蜘蛛網，感覺到了，卻摸不著痕跡。雲天浩浩，豔陽依舊炙人。然後，綠蔭裡爆出幾抹殷紅或嬌黃，風裡漸透涼意，天空更形高遠。那時候，秋，就在不遠處潛移顧盼。最後，秋天真的來到了。早上推窗，五棵楓樹，撒開滿眼繁華，朝陽裡，彷彿春花。只是，逼人的早晨清氣，隱約著秋的蕭颯。傍晚時分，夕陽斜照楓樹，熠熠生輝。一葉一葉，都像沾透了西天的霞光。那樣的絢爛，叫人心裡透著絲絲蒼涼。年光老了，要將年華作最後一次揮灑。終於到了落葉紛飛的時候。無風的時候，悄悄地落，落到依然茵綠的草地上；像刺繡一樣，在綠茵上刺成五彩圖案。有風的時候，飄在空中，久久不下；像蝴蝶飛舞，舞成了晴秋裡的落英殘瓣。樹葉落盡了，就是掃葉子的時候。」

上文旨趣，與下列何者最為相近？

- (A) 觸景生情，傷秋興感 (B) 生命如樹，生生不息
(C) 秋高氣爽，除舊布新 (D) 四季輪迴，榮枯應時

7 「食品的加工，就是肥胖普遍流行背後的藏鏡人，要逆轉這個情況，代表我們的消費習慣與食品業的生產與經營方式，都需要有重大的改變。一位食品業執行長說：『我們能改變，但是有兩個附帶條件：第一，我們不會單獨改變，第二，我們不能賠錢。』」

根據上文，下列敘述何者錯誤？

- (A) 如偏好加工食物將會讓人容易變胖
(B) 食品業者暗示拿掉添加物將無法產製
(C) 食品業者擔心同行不配合則自家吃虧
(D) 食品業者認為獲利是經營的重要考量

8 「把吃苦講得很偉大的人，通常都是在炫耀自己的辛苦。沒有所謂輕鬆的人生，每個人總有些不為人知的苦處，因此不需要再去自尋辛苦。以吃苦為豪的人，欠缺了冷靜審視自己的第三者思考。一般辛苦無法增廣人生的寬度，想要拓展人生寬度的話，得要鍛鍊自己的知性，並且經歷真正困苦의 試鍊。」

關於上文作者的見解，下列敘述何者錯誤？

- (A) 常說自己吃苦的人通常是一種自豪心態
 - (B) 拓展人生的寬度與經歷困苦並無關連性
 - (C) 不論是否訴說每人都有不為人知的苦處
 - (D) 鍛鍊自己的知性是拓展人生寬度的方法
- 9 「很多很多的孩子，在操場上等候上課的第一聲鈴響。小小的手，圈在爸爸的、媽媽的手心裡，怯怯的眼神，打量著周遭。他們是幼稚園的畢業生，但是他們還不知道一個定律：一件事情的畢業，永遠是另一件事情的開啟。所謂父母子女一場，只不過意味著，你和他的緣分就是今生今世不斷地在目送他的背影漸行漸遠。你站立在小路的這一端，看著他逐漸消失在小路轉彎的地方，而且，他用背影默默告訴你：不必追。」

根據上文，下列選項最符合文意的是：

- (A) 勸誡世間子女要及時行孝，以免有風木含悲之憾
 - (B) 以期待子女有所成就之心情，取代離去時之悲傷
 - (C) 親子分離是人生必經之宿命，要能適時有所領悟
 - (D) 父母應尊重子女的生涯選擇，不宜有過多之干涉
- 10 「我會走上寫作之路，並被定位為『旅遊作家』和『美食作家』，完全是無心插柳柳成蔭。不過在進入文壇十五年，在海峽兩岸出版了二十幾本暢銷書後，常有後進艷羨的請教我成功之道。我總告訴他們：『寫自己最擅長最熟悉的東西』，並強調：『如果你是匹千里馬，一定會有伯樂出現』，每個人聽了都大樂。」

下列選項，何者與上文敘述最不符合？

- (A) 作者當初的志向不是寫作
- (B) 作者的寫作之路經歷過一番波折
- (C) 作者擅長處理美食與旅行這方面的題材
- (D) 作者認為如真有寫作之才必有賞識之人

111年公務人員特種考試警察人員、一般警察人員、國家安全局國家
安全情報人員考試及111年特種考試交通事業鐵路人員考試試題

考試別：警察人員考試

等別：四等考試

類科組別：消防警察人員

科目：中華民國憲法與消防警察專業英文

考試時間：1小時

座號：_____

※注意：(一)本試題為單一選擇題，請選出一個正確或最適當的答案，複選作答者，該題不予計分。

(二)本科目共 50 題，每題 2 分，須用 2B 鉛筆 在試卡上依題號清楚劃記，於本試題上作答者，不予計分。

(三)禁止使用電子計算器。

- 依司法院大法官解釋，下列何者不是「政黨及其附隨組織不當取得財產處理條例」之合憲目的？
(A)確保政黨長期執政
(B)回復自由民主憲政秩序
(C)重新評價及匡正嚴重侵害基本權利之不法或不當過往
(D)建立政黨公平競爭環境
- 依司法院大法官解釋，下列何者違反國民主權原則？
(A)縣（市）議會正副議長之選舉罷免採記名投票
(B)立法委員選舉兼採政黨比例代表席次，並規定其政黨門檻
(C)中央民意代表毋須定期改選
(D)法律規定須達最近一次中央民意代表選舉選舉人總數百分之一點五以上連署，始得申請為總統、副總統候選人
- 依司法院釋字第 801 號解釋，刑法規定裁判確定前逾 1 年部分之羈押日數，始算入無期徒刑假釋之已執行期間，違反下列何項原則？
(A)罪刑法定原則 (B)不當連結禁止原則 (C)比例原則 (D)平等原則
- 依司法院釋字第 786 號解釋，公職人員利益衝突迴避法第 14 條前段規定就違反同法第 7 條規定者，處新臺幣 100 萬元以上 500 萬元以下罰鍰，違反下列何者？
(A)工作權與比例原則 (B)工作權與平等原則 (C)財產權與比例原則 (D)財產權與平等原則
- 憲法規定「國防之組織，以法律定之」，下列敘述何者錯誤？
(A)為法律保留事項 (B)為限制人民之法律
(C)法律得規定國防科技與武器系統之研發 (D)為憲法委託事項
- 依憲法本文有關土地政策之規定，下列敘述何者正確？
(A)中華民國領土內之土地屬於國民全體 (B)人民依法取得土地之權利限於使用權
(C)附著於土地之礦專屬土地權利人享有 (D)土地之價值均歸土地權利人享有
- 關於憲法「選舉」之規定，下列敘述何者錯誤？
(A)「平等選舉」就是每人一票，票票等值
(B)選舉訴訟由法院審判之
(C)除憲法或法律別有規定者外，年滿 23 歲者，有依法被選舉之權
(D)「通訊投票」的制度違反「無記名選舉」，因此係屬違憲
- 依司法院大法官解釋，關於商業性言論，下列敘述何者正確？
(A)商業性言論不受憲法之保護
(B)商業性言論屬於低價值言論，受到保護較低
(C)政府因商業性言論有誤導消費者之虞，得對該言論進行管制
(D)政府若欲限制商業性言論，須有明顯而立即危險之事實狀態
- 依司法院釋字第 631 號解釋意旨，下列何者並非憲法保障秘密通訊自由之主要目的？
(A)維護人性尊嚴與個人主體性 (B)維護個人財產權之完整性
(C)維護個人資料之自主控制 (D)維護個人生活私密領域免於他人任意侵擾

- 10 依據司法院釋字第 573 號解釋之意旨，關於國家對宗教信仰自由之限制，下列敘述何者錯誤？
(A)對宗教之監督，採取事前許可制較事後追懲制對宗教信仰自由之侵害更大
(B)對人民內心信仰之干預，相對於對宗教活動與實踐之限制，更為憲法所不許
(C)對宗教團體活動之限制，相對於對個人宗教信仰實踐之限制，更為憲法所不許
(D)對特定宗教之活動予以獎勵，相對於不對任何宗教之活動予以獎勵，更為憲法所不許
- 11 下列何種法律尚未直接限制憲法保障之生存權？
(A)全民健康保險法 (B)國民年金法
(C)刑法之死刑規定 (D)公務員懲戒法之懲戒規定
- 12 依司法院釋字第 640 號解釋，應以法律明定之事項，不包括下列何者？
(A)納稅主體 (B)納稅稅目
(C)納稅原因事實有無之認定 (D)納稅期間
- 13 海洋委員會海巡署人員為偵查犯罪而在嫌犯車上裝設衛星定位設置以追蹤其行動，此一行為侵害下列何種權利？
(A)秘密通訊之自由 (B)表現自由 (C)行動自由 (D)資訊隱私權
- 14 依司法院大法官解釋意旨，國家於形成與健康權有關之法律制度時，應符合對相關人民健康權最低限度之保護要求，係何種基本權利功能之展現？
(A)組織程序保障功能 (B)給付請求權功能 (C)制度性保障功能 (D)國家保護義務功能
- 15 關於解散立法院，下列敘述何者錯誤？
(A)立法院通過對行政院長之不信任案後 10 日內，行政院院長得呈請總統解散立法院
(B)總統應諮詢立法院院長
(C)於緊急命令生效期間，不得解散立法院
(D)由行政院院長宣告解散立法院
- 16 依憲法增修條文規定，關於彈劾總統，下列敘述何者正確？
(A)監察院提出總統彈劾案，移送公務員懲戒法庭審理
(B)監察院提出總統彈劾案，聲請司法院大法官審理
(C)立法院提出總統彈劾案，移送公務員懲戒法庭審理
(D)立法院提出總統彈劾案，聲請司法院大法官審理
- 17 下列何者非屬我國總統之權限？
(A)宣布戒嚴 (B)國家機密特權
(C)否決立法院決議之法律案 (D)決定國家安全有關大政方針
- 18 依憲法及增修條文規定，有關行政院與考試院，下列敘述何者錯誤？
(A)行政院有向立法院提出施政方針及施政報告之責
(B)考試院關於所掌事項，得向立法院提出法律案
(C)行政院於會計年度結束後 4 個月內，應提出決算於立法院
(D)考試院之組織，以法律定之
- 19 下列關於預算案之敘述，何者正確？
(A)行政院向立法院提出之預算案，應經行政院會議議決
(B)司法院所提出之年度司法概算，立法院不得刪減
(C)預算案又稱為措施性法律，係對不特定人之權利義務關係所作之抽象規定，並於年度內反覆產生其規範效力
(D)立法院對於行政院所提預算案，不得增加支出，但得以委員提案方式為增加支出之提議
- 20 依憲法增修條文第 4 條規定，總統於立法院解散後、新任立法委員選舉投票日前，發布緊急命令，其追認程序為何？
(A)立法院應於 3 日內自行集會，並於開議 5 日內追認之
(B)立法院應於 3 日內自行集會，並於開議 7 日內追認之
(C)立法院應於 5 日內自行集會，並於開議 5 日內追認之
(D)立法院應於 5 日內自行集會，並於開議 7 日內追認之

- 21 依憲法增修條文規定，關於監察委員，下列敘述何者正確？
(A)監察委員在院內所為之言論及表決，對院外不負責任
(B)監察委員，除現行犯外，非經監察院許可，不得逮捕或拘禁
(C)監察委員得兼任其他公職
(D)監察院之彈劾案，須經監察委員 2 人以上之提議，9 人以上之審查及決定，始得提出
- 22 有關司法院之敘述，下列何者錯誤？
(A)司法院享有司法行政監督權與規則制定權 (B)司法院為全國最高審判機關
(C)司法院掌理公務員之懲戒 (D)憲法法庭審理總統、副總統之彈劾案
- 23 關於我國違憲審查制度之特徵，下列敘述何者錯誤？
(A)我國違憲審查制度基本上採取集中審查制
(B)我國違憲審查制度僅允許對於基本權侵害案件提出聲請
(C)除人民外，政黨及地方自治團體也得為聲請主體
(D)透過大法官解釋，業已擴大違憲審查標的之範圍，不以法律明文規定者為限
- 24 有關司法院大法官，下列敘述何者錯誤？
(A)大法官由總統提名，經立法院同意任命之
(B)大法官任期個別計算，得連任
(C)並為院長、副院長之大法官，不受任期之保障
(D)大法官組成憲法法庭審理總統、副總統之彈劾及政黨違憲之解散事項
- 25 關於我國中央與地方關係，下列敘述何者正確？
(A)涉及不確定法律概念之自治事項，上級監督機關應完全尊重該地方自治團體所為合法性之判斷，不得予以撤銷或變更
(B)法律之實施須由地方負擔經費者，不僅行政主管機關草擬此類法律，應與地方政府協商，且立法機關於修訂相關法律時，亦應予地方政府人員列席此類立法程序表示意見之機會
(C)中央機關對地方自治團體基於適法性監督之職權所為撤銷處分行為，地方自治團體對其處分不服者，屬於權限爭議，得逕向司法院聲請解釋
(D)直轄市間、直轄市與縣（市）間，權限遇有爭議時，由司法院大法官解釋之
- 26 Taipei Fire Chief Mr. Chen said on Monday that a _____ of people were missing in the fire.
(A) hand (B) handed (C) handful (D) handle
- 27 The building had recently been inspected, but it seemed that the _____ system was not working when the fire broke out.
(A) immune (B) circulatory (C) sprinkler (D) navigation
- 28 One of the duties of a fire control officer is to monitor emergency calls and take command of the _____ of all resources.
(A) dispatch (B) expense (C) purchase (D) solution
- 29 Firefighters should particularly bear in mind that radio signal _____ in some types of buildings can be limited.
(A) intrusion (B) decoding (C) penetration (D) relocation
- 30 Paramedics are always first at the scene to _____ life-saving procedures, such as to supply splints to limbs, to dress wounds, and to set up drips.
(A) administer (B) attach (C) institute (D) produce
- 31 Defining the fire _____ in a tunnel generally involves a high level of uncertainty due to variation in fuel, ventilation, and tunnel geometry.
(A) anticipation (B) decision (C) scenario (D) work
- 32 It is advisable that we evaluate electrochemical or optical sensors, placed in the cooktop exhaust _____, for use in predicting and preventing cooktop ignition.
(A) ceiling (B) hole (C) escape (D) duct

- 33 Most fire service staff will be familiar with the type of _____ used for monitoring premises for security purposes, either in shops, car parks, or remote fire stations.
 (A) VPN (B) LAN (C) GPS (D) CCTV
- 34 By keeping doors and windows closed, it is possible for a fire to become _____ of oxygen and self-extinguish as a result, if the enclosure in which fire occurs is relatively small.
 (A) away (B) gone (C) displaced (D) starved
- 35 Almost every _____ training program would involve the drill to find the lost, injured or trapped firefighter, work through the problem, and remove the firefighter from harm.
 (A) infernal (B) mayday (C) temporary (D) doomsday
- 36 An _____ ladder truck is a motor vehicle equipped with a tower ladder, which is used to fight a fire from above.
 (A) aerial (B) elongated (C) extravagant (D) oversized
- 37 The firefighter at the _____ should be able to communicate by radio with the pump operator to provide feedback about water flow.
 (A) apparatus (B) hatchet (C) nozzle (D) phone
- 38 A defibrillator is a device that releases a brief but powerful electric charge to restore normal heart rhythm after cardiac _____.
 (A) arrest (B) blockade (C) hindrance (D) impediment
- 39 Research has clearly identified the effects of rising temperature on “fuel aridity”—or the _____ of the vegetation—as the primary pathway by which global warming has been influencing wildfire risk.
 (A) dryness (B) influence (C) lack (D) richness
- 40 If part of a fire-resisting enclosure, required by the regulations at the time of construction, were illegally removed by an occupier as part of an _____, he or she would be guilty of an offence.
 (A) undertaking (B) exception (C) employment (D) alteration

請依下文回答第 41 題至第 45 題：

Except in very rare cases, for instance whilst the ship is *en voyage*, it would be, in case of fire, a sound 41 never to use sea water unless absolutely forced to do so. There are many circumstances in which sea water has a secondary effect. In the 42 spaces, for example, there would be an irreversible damage done to the steelwork and copper fittings. Sea water is very slow drying and leaves a residue which has a 43 action. Since metal is microscopically porous, it will be understood that mere wiping down will not completely remove the effect. In addition, acids have a definite 44 to any form of water. The accepted rule is: never add water to acid. The action of water in contact with the acid is to 45 heat. If sea water is used, there will be a production of even more choking fume.

- 41 (A) echo (B) axiom (C) detection (D) navigation
 42 (A) cargo (B) cooling (C) machinery (D) passenger
 43 (A) conducive (B) corrosive (C) inflammable (D) seductive
 44 (A) insulation (B) reaction (C) resistance (D) subjection
 45 (A) renounce (B) confuse (C) deter (D) generate

請依下文回答第 46 題至第 50 題：

Civil 46 for loss or injury as a result of fire can arise in certain circumstances. The increasing awareness of the potential for 47 is likely to ensure that claims against occupiers or owners of property involved in fire will continue to arise. In a particularly important case, a firefighter successfully sued a householder for his injuries, 48 while fighting a fire. The fire started due to the 49 of the householder while undertaking work in the premises. Likewise, if a fire starts or spreads due to the presence of dangerous 50, rather than by accident, prosecution will ensue.

- 46 (A) liability (B) disclosure (C) takeover (D) enclosure
 47 (A) combustion (B) ignition (C) litigation (D) procrastination
 48 (A) found (B) healed (C) incurred (D) revealed
 49 (A) insight (B) perfection (C) suggestion (D) negligence
 50 (A) effects (B) substances (C) thoughts (D) guards

111年公務人員特種考試警察人員、一般警察人員、國家安全局國家
安全情報人員考試及111年特種考試交通事業鐵路人員考試試題

考試別：警察人員考試

等別：四等考試

類科組別：消防警察人員

科目：消防安全設備概要

考試時間：1小時30分

座號：_____

※注意：(一)禁止使用電子計算器。

(二)不必抄題，作答時請將試題題號及答案依照順序寫在試卷上，於本試題上作答者，不予計分。

(三)本科目除專門名詞或數理公式外，應使用本國文字作答。

- 一、建築物在5樓以上，且總樓地板面積在3,000平方公尺以上者，因規模較大且收容人員眾多，為避免火災發生時各樓層人員同時避難造成恐慌，請問火警自動警報設備之鳴動方式為何？（10分）另請問火警受信總機之裝置規定為何？（15分）
- 二、請依照「各類場所消防安全設備設置標準」，說明出口標示燈及避難方向指示燈的緊急電源容量之規定為何？（15分）目前都市建築物有大規模化、複雜化及深層化之趨勢，建築物內部人員所需安全避難時間，倘若超過前述標示設備之緊急電源容量時，面對此問題有何強化避難引導之方案？（10分）
- 三、請依照「消防安全設備及必要檢修項目檢修基準」，說明在進行固定式泡沫滅火設備（低發泡）綜合檢查時，其檢查方法、判定方法與注意事項為何？（25分）
- 四、某發電機室防護空間長度8公尺、寬度5公尺、高度4公尺，設置全區放射方式之二氧化碳滅火設備，其開口部總面積為10平方公尺，依照「各類場所消防安全設備設置標準」，應如何計算該場所所需滅火藥劑量？（10分）另滅火藥劑放射後，應如何有效將其排放至安全地方？（15分）

考試別：一般警察人員考試、警察人員考試

等別：四等考試

類科組別：消防警察人員

科目：消防與災害防救法規概要（包括消防法及施行細則、災害防救法及施行細則、爆竹煙火管理條例及施行細則、公共危險物品及可燃性高壓氣體設置標準暨安全管理辦法、緊急救護辦法、緊急醫療救護法及施行細則）

考試時間：1小時30分

座號：_____

※注意：禁止使用電子計算器。

甲、申論題部分：（50分）

- (一)不必抄題，作答時請將試題題號及答案依照順序寫在申論試卷上，於本試題上作答者，不予計分。
- (二)請以藍、黑色鋼筆或原子筆在申論試卷上作答。
- (三)本科目除專門名詞或數理公式外，應使用本國文字作答。

一、依據消防法及施行細則規定，明定「防火管理」制度，請詳述：

(一)防火管理制度、防火管理人之資格及訓練為何？（15分）

(二)消防防護計畫除「防災應變之教育訓練」、「用火、用電之監督管理」、「防止縱火措施」及「其他防災應變上之必要事項」外，尚包含那些事項？（10分）

二、依據緊急醫療救護相關法令，請說明緊急醫療救護（15分）、緊急醫療救護人員（5分）及大量傷病患（5分）之意涵。

乙、測驗題部分：（50分）

代號：4402

- (一)本測驗試題為單一選擇題，請選出一個正確或最適當的答案，複選作答者，該題不予計分。
- (二)共25題，每題2分，須用2B鉛筆在試卡上依題號清楚劃記，於本試題或申論試卷上作答者，不予計分。

- 1 依消防法及施行細則之規定，某餐廳之管理權人為甲先生、防火管理人為乙先生、消防設備士為丙先生、室內裝修人員為丁先生，該場所進行室內裝修，未依規定另定消防防護計畫，以監督施工單位用火、用電情形，下列何者為處罰對象？
(A)甲先生 (B)乙先生 (C)丙先生 (D)丁先生
- 2 依災害防救法規定，為減少災害發生或防止災害擴大，各級政府平時應依權責實施之減災事項，下列敘述何者正確？①災害保險之規劃及推動 ②有關弱勢族群災害防救援助必要事項 ③災害防救之訓練、演習 ④國際救災支援之配合
(A)①② (B)③④ (C)①③ (D)②④
- 3 依災害防救法之規定，下列何者為火山災害之中央災害防救業務主管機關？
(A)行政院農業委員會 (B)內政部 (C)經濟部 (D)行政院環境保護署
- 4 依災害防救法及施行細則規定，有關災害防救計畫，下列敘述何者錯誤？
(A)中央災害防救業務主管機關所訂定之災害防救業務計畫由中央災害防救會報核定
(B)災害防救業務計畫每2年檢討修正
(C)直轄市、縣（市）地區災害防救計畫應報由中央災害防救會報核定
(D)鄉（鎮、市）公所地區災害防救計畫應報由縣（市）災害防救會報備查

- 5 依公共危險物品及可燃性高壓氣體製造儲存處理場所設置標準暨安全管理辦法規定，有關液化石油氣串接使用量在 300 公斤以上未滿 1000 公斤場所，下列敘述何者錯誤？
(A) 容器應放置於室外。但放置於室外確有困難，且設置防止氣體滯留之有效通風裝置者，不在此限
(B) 容器直立放置且有防止傾倒之固定措施
(C) 以書面向當地消防機關陳報，並記載場所名稱與地址、負責人姓名與國民身分證統一編號、液化石油氣使用量
(D) 場所之溫度應經常保持攝氏 45 度以下，並有防止日光直射措施
- 6 依爆竹煙火管理條例規定，有關儲存、販賣場所達中央主管機關所定管制量多少倍，負責人應選任爆竹煙火監督人？
(A) 5 (B) 10 (C) 20 (D) 30
- 7 依緊急醫療救護法規定，救護人員施行救護，應填具救護紀錄表，分別交由該救護車設置機關(構)及應診之醫療機構保存至少 X 年；又救護車設置機關(構)受廢止其救護車之設置許可處分者，於 Y 年內不得再申請設置，X+Y 為何？
(A) 8 (B) 9 (C) 10 (D) 11
- 8 依消防法及施行細則規定，有關防火管理人之資格條件，下列敘述何者錯誤？
(A) 應為管理或監督層次人員
(B) 應經中央消防機關認可之訓練機構或直轄市、縣(市)消防機關講習訓練合格領有證書者
(C) 經防火管理人講習訓練初訓合格後，每 2 年至少應接受複訓 1 次
(D) 防火管理人之講習訓練時數，初訓不得少於 12 小時；複訓不得少於 6 小時
- 9 依消防法及其相關規定，下列何者為非屬應使用附有防焰標示之地毯、窗簾、布幕、展示用廣告板之場所？
(A) 觀光旅館 (B) 幼兒園 (C) 教堂 (D) 三溫暖
- 10 依消防法規定，下列何者行為得不經通知限期改善，直接處行政罰鍰？
(A) 未遴用防火管理人者
(B) 未維護消防安全設備者
(C) 未使用防焰物品者
(D) 違反容器有關銷售對象資料之建置、保存與申報等事項者
- 11 依消防法規定，有關緊急救護敘述，下列何者錯誤？
(A) 各級消防機關應設救災救護指揮中心，以統籌指揮、調度、管制及聯繫救護相關事宜
(B) 直轄市、縣(市)消防機關應依實際需要普遍設置救護隊
(C) 救護隊應配置救護車輛及救護人員，負責緊急救護業務
(D) 消防機關救護車輛、裝備、人力配置標準及緊急救護辦法，由中央目的主管機關定之
- 12 依消防法規定，管理權人未定期辦理消防安全設備檢修申報，得處新臺幣罰鍰為：
(A) 3 千元以上 1 萬 5 千元以下 (B) 5 千元以上 2 萬 5 千元以下
(C) 1 萬元以上 5 萬元以下 (D) 2 萬元以上 10 萬元以下
- 13 依消防法及其相關規定，有關地方消防機關之消防車輛配置，下列何者為其配置之考量因素？
(A) 年齡 (B) 身心障礙者 (C) 人口數 (D) 性別
- 14 依消防法規定，有關消防機具、器材及設備之認可事項，下列敘述何者正確？
(A) 經公告應實施認可之消防機具、器材及設備，應經經濟部所登錄機構之認可，並附加認可標示
(B) 設置於各類場所之消防用緊急發電機組應附加有認可標示
(C) 個別認可係指已取得型式認可之消防機具器材及設備，於製造生產前，應經直轄市、縣(市)消防機關認定
(D) 未經認可而銷售或設置者，處其銷售或設置人員新臺幣 2 萬元以上 10 萬元以下罰鍰

- 15 依災害防救法規定，有關各級政府災害防救會報之任務，下列敘述何者錯誤？
(A)中央災害防救會報督導縣（市）災害防救相關事項
(B)鄉公所災害防救會報核定重要災害防救對策
(C)直轄市災害防救會報核定災害緊急應變措施
(D)中央災害防救會報核定地區災害防救計畫
- 16 依災害防救法規定，有關人民因災害應變所受處分，致財產遭受損失，下列敘述何者正確？
(A)得請求賠償，自知有損失時起 2 年內請求之
(B)得請求賠償，自知有損失時起 5 年內請求之
(C)得請求補償，自知有損失時起 2 年內請求之
(D)得請求補償，自知有損失時起 5 年內請求之
- 17 依災害防救法及其施行細則規定，有關各級政府在災害發生時之應變措施所需費用，下列敘述何者錯誤？
(A)由各級政府依法編列
(B)如有不敷支應時，視需要情形調整下年度收支移緩濟急
(C)如有不敷支應時，不受預算法第 62 條及第 63 條限制
(D)運用移緩濟急由各機關原列與災害應變措施相關科目經費支應
- 18 有關爆竹煙火工作項目之權責劃分，下列何者屬於地方政府主管權責？①輸入一般爆竹煙火之封存 ②煙火監督人講習、訓練之規劃及辦理 ③爆竹煙火成品之輸入許可 ④爆竹煙火製造之許可、變更、撤銷及廢止
(A)①④ (B)①② (C)②③ (D)③④
- 19 依爆竹煙火管理條例施行細則規定，有關爆竹煙火監督人之設置管理及訓練相關規定，下列敘述何者正確？
(A)達管制量以上之儲存、販賣場所應設置爆竹煙火監督人
(B)初訓時間不得少於 24 小時，複訓時間不得少於 8 小時
(C)每 3 年至少應接受複訓 1 次
(D)每年至少應實施 1 次演練，每次不得少於 4 小時
- 20 依公共危險物品及可燃性高壓氣體製造儲存處理場所設置標準暨安全管理辦法規定，有關公共危險物品及可燃性高壓氣體場所之定義，下列敘述何者正確？
(A)販賣數量達管制量 15 倍以上，未達 50 倍之場所，稱為第二種販賣場所
(B)位於建築物內以儲槽方式儲存場所，稱為室內儲存場所
(C)在建築物外地面上設置容量超過 600 公升且不可移動之儲槽，稱為室外儲存場所
(D)使用液化石油氣作為燃氣來源，其串接使用量達 80 公斤以上之場所，稱為容器串接使用場所
- 21 依公共危險物品及可燃性高壓氣體製造儲存處理場所設置標準暨安全管理辦法規定，有關某一化工原料行內有儲存達管制量 30 倍之公共危險物品，並用容器分裝，此為何種場所？
(A)一般處理場所 (B)室外儲存場所 (C)第一種販賣場所 (D)第二種販賣場所
- 22 依緊急醫療救護法規定，下列何者非為救護車之設置機關（構）？
(A)消防機關 (B)醫療機構 (C)護理機構 (D)啟智學校
- 23 依緊急醫療救護法施行細則規定，救護車至少多久應定期消毒一次，並留存紀錄以供衛生主管機關查核？
(A) 6 個月 (B) 3 個月 (C) 2 個月 (D) 1 個月
- 24 依救護技術員管理辦法規定，氣管插管項目應由下列何種人員施行？
(A)初級救護技術員 (B)中級救護技術員 (C)高級救護技術員 (D)消防人員
- 25 依緊急救護法令規定，有關緊急傷病患救護，下列敘述何者錯誤？
(A)由救災救護指揮中心負責受理
(B)由救護人員負責生命徵象評估
(C)由醫院人員負責就醫聯絡
(D)如遇緊急傷病患或其家屬拒絕送醫，應要求其於救護紀錄表中簽名後，不予運送

111年公務人員特種考試警察人員、一般警察人員、國家安全局國家
安全情報人員考試及111年特種考試交通事業鐵路人員考試試題

考試別：警察人員考試

等別：四等考試

類科組別：消防警察人員

科目：消防器材構造與使用

考試時間：1小時30分

座號：_____

※注意：(一)禁止使用電子計算器。

(二)不必抄題，作答時請將試題題號及答案依照順序寫在試卷上，於本試題上作答者，不予計分。

(三)本科目除專門名詞或數理公式外，應使用本國文字作答。

- 一、救災使用鏈鋸執行破壞作業時，請分別試述使用安全注意事項為何？
(15分) 使用後保養方式為何？(10分)
- 二、消防人員執行車禍救助使用頂舉氣袋組，請分別試述頂舉氣袋組之構成
為何？(5分) 操作安全注意事項為何？(20分)
- 三、請試述水箱消防車於進行吸水時應詳加檢查的項目為何？(15分) 消防
車轉向系統日常保養注意事項為何？(10分)
- 四、防汛期間經常使用救生艇執行水域救生勤務，請試述船外機手動式啟動
程序為何？(15分) 船外機引擎安置要領為何？(10分)

111年公務人員特種考試警察人員、一般警察人員、國家安全局國家安全情報人員考試及111年特種考試交通事業鐵路人員考試試題

考試別：警察人員考試

等別：四等考試

類科組別：消防警察人員

科目：消防警察情境實務概要（包括消防法規、實務操作標準作業程序、人權保障與正當法律程序）

考試時間：1小時30分

座號：_____

※注意：禁止使用電子計算器。

甲、申論題部分：（60分）





- (一)不必抄題，作答時請將試題題號及答案依照順序寫在申論試卷上，於本試題上作答者，不予計分。
- (二)請以藍、黑色鋼筆或原子筆在申論試卷上作答。
- (三)本科目除專門名詞或數理公式外，應使用本國文字作答。

- 一、某一中式餐廳使用液化石油氣為燃料，其備用量限制為何？（5分）該場所如要改成串接使用方式，應符合那些規定，瓦斯業者始能供應燃氣？（15分）
- 二、建築物裝設太陽光電設備是國家能源政策，依消防機關搶救太陽光電發電設備火災指導原則規定，為確保消防人員救災安全，有關太陽光電設備之火災搶救原則為何？請詳述之。（20分）
- 三、為提升到院前心肺功能停止（OHCA）患者康復出院比例，落實生命之鍊至為重要，何謂 OHCA 的生命之鍊？（10分）若你為初級救護技術員，應執行那些相關的工作事項？（10分）請詳述之。

乙、測驗題部分：（40分）

代號：5602

- (一)本測驗試題為單一選擇題，請選出一個正確或最適當的答案，複選作答者，該題不予計分。
- (二)共20題，每題2分，須用2B鉛筆在試卡上依題號清楚劃記，於本試題或申論試卷上作答者，不予計分。

- 1 你是消防安全設備審查人員，有關消防安全設備圖示範例，下列敘述何者錯誤？
 - (A)  代表送水口
 - (B)  代表採水口
 - (C)  代表止水閥
 - (D)  代表逆止閥
- 2 為確認場所是否依法辦理檢修申報及其消防安全設備是否正常運作，對於消防安全檢查人員受理轄區場所消防安全設備檢修申報及執行複查，下列敘述何者錯誤？
 - (A)未申領使用執照或未依使用執照用途之違規使用或營業場所，應依實際用途辦理申報
 - (B)確認性複查係查核消防專技人員是否落實檢修，及消防安全設備是否維持正常功能使用狀態
 - (C)進行複查作業應以查閱檢修報告書、詢問及實地測試等方式，了解消防專技人員有無不實檢修情事
 - (D)複查作業查詢方式，係指詢問管理權人或防火管理人辦理檢修申報之過程，及所委託消防專技人員辦理檢修情形

- 3 某廠商欲從國外輸入一批專業爆竹煙火，輸入後將其儲存在嘉義縣之儲存倉庫，其後運至臺北市臨時儲存場所，並在臺北市進行燃放，其相關程序及規定，下列何者錯誤？
- (A)輸入及燃放專業爆竹煙火，應先向內政部申請發給輸入許可文件，再向臺北市政府申請核發燃放許可
 - (B)輸入後之專業爆竹煙火應運至嘉義縣之專業煙火倉庫，並於通知嘉義縣政府清點數量後辦理入庫
 - (C)取得專業爆竹煙火輸入許可後，其申請資料有變更時，應向內政部申請變更
 - (D)專業爆竹煙火應於運出儲存地點前，將相關資料報請嘉義縣政府與臺北市政府備查後，始得運出儲存地點
- 4 液化石油氣容器定期檢驗合格標示，內容記載該支容器基本及定期檢驗等相關資料，對定期檢驗合格標示內容，下列敘述何者錯誤？
- (A)依下次檢驗期限所標示之日期，可研判該支容器有無逾期檢驗
 - (B)依出廠耐壓試驗日期所標示之日期，可研判該支容器瓶齡
 - (C)出廠耐壓試驗日期為民國 104 年 1 月 6 日、定期檢驗日期為民國 109 年 1 月 6 日，則下次檢驗期限為民國 114 年 1 月 6 日
 - (D)出廠耐壓試驗日期為民國 104 年 1 月 6 日，則該容器於民國 124 年 1 月 6 日後，不再實施定期檢驗
- 5 爆竹煙火之火藥作用後，會產生火花、旋轉、行走、飛行、升空、爆音或煙霧等現象，稍不注意容易造成人員傷害或引起災害，有關消防人員宣導使用安全事項，下列敘述何者正確？
- (A)年齡達 10 歲以上者，燃放一般爆竹煙火時，不需有父母、監護人或其他實際照顧之人陪同
 - (B)加油站基地外，不考慮一般爆竹煙火所標示之安全距離
 - (C)各種爆竹煙火類別，應經認可並附加標示後，方能供民眾使用
 - (D)飛行、升空類燃放時，具有相當射程及較高之危險性，禁止兒童燃放
- 6 消防人員為落實推動防火管理業務，輔導場所管理權人遴用防火管理人並責成其製定消防防護計畫，報請消防機關核備，下列何者非屬應實施防火管理場所？
- (A)收容人數 90 人之寄宿舍、收容人數 150 人的無客房招待所
 - (B)收容人數 40 人（含員工）之兒童及少年福利機構（限托嬰中心、早期療育機構、有收容未滿 2 歲兒童之安置及教養機構）
 - (C)總樓地板面積 350 平方公尺之咖啡廳
 - (D)總樓地板面積 600 平方公尺之圖書館、博物館
- 7 消防人員於審查場所提報之施工中消防防護計畫，依據消防機關辦理防火管理業務注意事項規定，下列敘述何者正確？
- (A)消防機關受理申請核備次日起，14 日內將受理結果回覆提報人
 - (B)消防機關取得主管建築機關場所變更使用核准文件，應以書面通知該場所提報施工中消防防護計畫
 - (C)消防機關受理新建建築物消防安全設備圖說審查時，應以書面通知該場所提報施工中消防防護計畫
 - (D)管理權人應於實際開工 2 天前，填具施工中消防防護計畫提報表，並檢附施工中消防防護計畫及自行檢查表送消防機關

- 8 有一棟 10 層樓建築物的 5 樓火災，消防人員一到現場，攻擊車立即實施水帶佈線，下列敘述何者較不適宜？
- (A) 水帶儘量不要橫跨馬路部署，如確需橫跨馬路時，應加設水帶護橋或指派專人看守
 - (B) 司機須確認佈線人員已將水帶佈線完成並已固定完成，才可開始放水
 - (C) 平面佈線時以 16~18 步換算一條水帶之長度，計算出下一水帶之佈線位置
 - (D) 垂直佈線時將公接頭放置於入口處，母接頭向上延伸
- 9 消防人員在危險環境中，有賴快速救援小組（Rapid Intervention Team, RIT）執行救援勤務，下列敘述何者較不適當？
- (A) 預判火勢猛烈或救災環境惡劣時，預備 2 人以上之 RIT 小組
 - (B) RIT 人員得隨時支援執行其他任務，以避免浪費人力
 - (C) RIT 人員必須接受訓練，每個人都有明確的角色及責任，並有相關的救援計畫
 - (D) RIT 人員除穿著完整個人防護裝備外，並應視任務需要配備相關裝備及器材
- 10 有關消防衣、頭套與手套等個人防護裝備的穿戴使用，下列敘述何者正確？
- (A) 消防衣是消防人員的基本裝備，可以穿著來應付各種災害
 - (B) 消防衣是消防人員的個人防護裝備之一，可以提供火場基本保護
 - (C) 穿著防焰頭套會妨礙對於熱的感應能力，進火場非必要可以不用穿戴
 - (D) 消防手套會妨礙器材操作能力，可以救助手套代替
- 11 某日港區內發生漁船大火，指揮官下令你緊急就近於碼頭利用移動式幫浦抽取海水進行滅火，下列何者較不宜列為現場重要考量因素？
- (A) 移動式幫浦吸水口與海面的高度
 - (B) 當地潮汐及海浪的變化
 - (C) 移動式幫浦必須以清水清理或保養送修
 - (D) 吸水管的濾網是否遭魚蝦、垃圾或雜物堵塞
- 12 消防機關接獲轄區科學園區某半導體工廠發生火災，於出動途中可藉由多種系統，獲得致災物質搶救相關資料，下列何者較不適當？
- (A) 毒性化學物質災害防救查詢系統
 - (B) 化學品全球調和制度（GHS）危害數據資料查詢系統
 - (C) 消防安全設備管理系統
 - (D) 緊急應變指南
- 13 民眾相約至山區溯溪不慎溺水，消防人員穿著救生設備執行水域救生，有關採取游泳救生之安全注意事項，下列敘述何者較不適當？
- (A) 先進行環境評估作業，察看從何處下水較快、較安全
 - (B) 以抬頭捷泳方式游到溺者旁，眼睛必須注視溺者狀況
 - (C) 岸上確保人員應隨時準備適時因應支援
 - (D) 下水救生時，由前方接近，以利拖帶上岸
- 14 某一消防隊停放多部救護車，你是初任消防人員，有關救護車車別及裝備標準之辨識，下列何者錯誤？
- (A) 一般救護車及加護救護車係以車輛配置之裝備標準區分
 - (B) 車身為白色，兩側漆紅色十字及機關（構）名稱
 - (C) 加護救護車後車門上之救護車核可字號會多個加字
 - (D) 車身右側應漆核可字號

- 15 消防人員抵達現場時，發現孕婦待產，有關患者緊急救護處置流程，下列敘述何者錯誤？
(A)心臟停止的孕婦應徒手將子宮向右側移位
(B)產婦陣痛間隔若小於 5 分鐘，代表可能即將分娩
(C)孕婦血壓之收縮壓控制目標為 130 mmHg~155 mmHg
(D)有胎頭露出時，可將產婦平躺、兩膝彎曲、兩大腿張開之姿勢
- 16 依緊急救護技術員管理辦法規定，下列何者非初級救護技術員可施行之救護項目？
(A)檢傷分類及傷病檢視
(B)使用自動心臟電擊器
(C)急產接生
(D)靜脈輸液
- 17 消防人員執行救護勤務，發現患者需要使用袋瓣罩甦醒球人工呼吸，下列敘述何者錯誤？
(A)若給予氧氣後，血氧濃度（SpO₂）未提升，應使用袋瓣罩甦醒球人工呼吸
(B)沒有脈搏時，應在 3~4 秒鐘間，完成擠壓 1 次
(C)沒有脈搏時，除了應依操作規範進行擠壓外，並以 30：2 之比率，配合胸部按壓
(D)有脈搏且須給予人工呼吸時，每分鐘擠壓甦醒球 10 次
- 18 消防人員執行緊急救護時，有關判定患者可能為重度異物哽塞，下列敘述何者錯誤？
(A)全身軟弱可能會有兩手掐住脖子的徵候
(B)不斷咳嗽症候
(C)咳嗽聲音逐漸微弱
(D)吸氣時有高頻率的雜音
- 19 近年來推廣全民 CPR 教育已成為消防人員重要工作之一，下列何者不屬於教導民眾執行心肺復甦術重點？
(A)快快壓
(B)聽心音
(C)胸回彈
(D)莫中斷
- 20 因應嚴重特殊傳染性肺炎之個人防護裝備脫除，流程包含①脫除手套 ②脫除隔離衣進行手部衛生 ③脫除高效過濾口罩進行手部消毒 ④脫除護目裝備。有關作業順序，下列何者正確？
(A)①②④③
(B)②①④③
(C)①②③④
(D)④③②①

測驗式試題標準答案

考試名稱：111年公務人員特種考試警察人員、一般警察人員、國家安全局國家安全情報人員考試及
111年特種考試交通事業鐵路人員考試

類科名稱：消防警察人員、交通警察人員、水上警察人員輪機組、行政警察人員、水上警察人員航海
組、電力工程、機械工程、電子工程、運輸營業、材料管理

科目名稱：國文（作文、公文與測驗）（試題代號：1401）

單選題數：10題 單選每題配分：2.00分

複選題數： 複選每題配分：

標準答案：

題號	第1題	第2題	第3題	第4題	第5題	第6題	第7題	第8題	第9題	第10題
答案	A	A	B	C	C	A	B	B	C	B

題號	第11題	第12題	第13題	第14題	第15題	第16題	第17題	第18題	第19題	第20題
答案										

題號	第21題	第22題	第23題	第24題	第25題	第26題	第27題	第28題	第29題	第30題
答案										

題號	第31題	第32題	第33題	第34題	第35題	第36題	第37題	第38題	第39題	第40題
答案										

題號	第41題	第42題	第43題	第44題	第45題	第46題	第47題	第48題	第49題	第50題
答案										

題號	第51題	第52題	第53題	第54題	第55題	第56題	第57題	第58題	第59題	第60題
答案										

題號	第61題	第62題	第63題	第64題	第65題	第66題	第67題	第68題	第69題	第70題
答案										

題號	第71題	第72題	第73題	第74題	第75題	第76題	第77題	第78題	第79題	第80題
答案										

題號	第81題	第82題	第83題	第84題	第85題	第86題	第87題	第88題	第89題	第90題
答案										

題號	第91題	第92題	第93題	第94題	第95題	第96題	第97題	第98題	第99題	第100題
答案										

備 註：

測驗式試題標準答案

考試名稱：111年公務人員特種考試警察人員、一般警察人員、國家安全局國家安全情報人員考試及
111年特種考試交通事業鐵路人員考試

類科名稱：消防警察人員

科目名稱：中華民國憲法與消防警察專業英文（試題代號：2602）

單選題數：50題 單選每題配分：2.00分

複選題數： 複選每題配分：

標準答案：

題號	第1題	第2題	第3題	第4題	第5題	第6題	第7題	第8題	第9題	第10題
答案	A	C	D	C	B	A	D	C	B	C

題號	第11題	第12題	第13題	第14題	第15題	第16題	第17題	第18題	第19題	第20題
答案	D	C	D	D	D	D	C	C	A	B

題號	第21題	第22題	第23題	第24題	第25題	第26題	第27題	第28題	第29題	第30題
答案	D	B	B	B	B	C	C	A	C	A

題號	第31題	第32題	第33題	第34題	第35題	第36題	第37題	第38題	第39題	第40題
答案	C	D	D	D	B	A	C	A	A	D

題號	第41題	第42題	第43題	第44題	第45題	第46題	第47題	第48題	第49題	第50題
答案	B	C	B	B	D	A	C	C	D	B

題號	第51題	第52題	第53題	第54題	第55題	第56題	第57題	第58題	第59題	第60題
答案										

題號	第61題	第62題	第63題	第64題	第65題	第66題	第67題	第68題	第69題	第70題
答案										

題號	第71題	第72題	第73題	第74題	第75題	第76題	第77題	第78題	第79題	第80題
答案										

題號	第81題	第82題	第83題	第84題	第85題	第86題	第87題	第88題	第89題	第90題
答案										

題號	第91題	第92題	第93題	第94題	第95題	第96題	第97題	第98題	第99題	第100題
答案										

備註：

測驗式試題標準答案

考試名稱：111年公務人員特種考試警察人員、一般警察人員、國家安全局國家安全情報人員考試及
111年特種考試交通事業鐵路人員考試

類科名稱：消防警察人員

科目名稱：消防與災害防救法規概要(包括消防法及施行細則、災害防救法及施行細則、爆竹煙火管理條例及施行細則、公共危險物品及可燃性高壓氣體設置標準暨安全管理辦法、緊急救護辦法、緊急醫療救護法及施行細則)(試題代號：4402)

單選題數：25題

單選每題配分：2.00分

複選題數：

複選每題配分：

標準答案：

題號	第1題	第2題	第3題	第4題	第5題	第6題	第7題	第8題	第9題	第10題
答案	A	A	B	C	D	D	C	C	C	D

題號	第11題	第12題	第13題	第14題	第15題	第16題	第17題	第18題	第19題	第20題
答案	D	C	C	D	D	C	B	A	B	D

題號	第21題	第22題	第23題	第24題	第25題	第26題	第27題	第28題	第29題	第30題
答案	D	D	D	C	C					

題號	第31題	第32題	第33題	第34題	第35題	第36題	第37題	第38題	第39題	第40題
答案										

題號	第41題	第42題	第43題	第44題	第45題	第46題	第47題	第48題	第49題	第50題
答案										

題號	第51題	第52題	第53題	第54題	第55題	第56題	第57題	第58題	第59題	第60題
答案										

題號	第61題	第62題	第63題	第64題	第65題	第66題	第67題	第68題	第69題	第70題
答案										

題號	第71題	第72題	第73題	第74題	第75題	第76題	第77題	第78題	第79題	第80題
答案										

題號	第81題	第82題	第83題	第84題	第85題	第86題	第87題	第88題	第89題	第90題
答案										

題號	第91題	第92題	第93題	第94題	第95題	第96題	第97題	第98題	第99題	第100題
答案										

備註：

測驗式試題標準答案

考試名稱：111年公務人員特種考試警察人員、一般警察人員、國家安全局國家安全情報人員考試及
111年特種考試交通事業鐵路人員考試

類科名稱：消防警察人員

科目名稱：消防警察情境實務概要（包括消防法規、實務操作標準作業程序、人權保障與正當法律程序）（試題代號：5602）

單選題數：20題

單選每題配分：2.00分

複選題數：

複選每題配分：

標準答案：

題號	第1題	第2題	第3題	第4題	第5題	第6題	第7題	第8題	第9題	第10題
答案	D	B	A	D	D	A	B	D	B	B

題號	第11題	第12題	第13題	第14題	第15題	第16題	第17題	第18題	第19題	第20題
答案	C	C	D	D	A	D	B	B	B	A

題號	第21題	第22題	第23題	第24題	第25題	第26題	第27題	第28題	第29題	第30題
答案										

題號	第31題	第32題	第33題	第34題	第35題	第36題	第37題	第38題	第39題	第40題
答案										

題號	第41題	第42題	第43題	第44題	第45題	第46題	第47題	第48題	第49題	第50題
答案										

題號	第51題	第52題	第53題	第54題	第55題	第56題	第57題	第58題	第59題	第60題
答案										

題號	第61題	第62題	第63題	第64題	第65題	第66題	第67題	第68題	第69題	第70題
答案										

題號	第71題	第72題	第73題	第74題	第75題	第76題	第77題	第78題	第79題	第80題
答案										

題號	第81題	第82題	第83題	第84題	第85題	第86題	第87題	第88題	第89題	第90題
答案										

題號	第91題	第92題	第93題	第94題	第95題	第96題	第97題	第98題	第99題	第100題
答案										

備註：